





Zähle zusammen




Diese kleinen Rechenaufgaben kannst du sicher lösen. Schreibe die fehlenden Zahlen in die Kästchen.




$$\boxed{2} + \boxed{1} = \boxed{}$$




$$\boxed{1} + \boxed{1} = \boxed{}$$



$$\boxed{1} + \boxed{3} = \boxed{}$$



$$\boxed{2} + \boxed{2} = \boxed{}$$



$$\boxed{1} + \boxed{} = \boxed{}$$



$$\boxed{3} + \boxed{} = \boxed{}$$



Das hast du
sehr gut
gemacht!



Das hast du
gut gemacht!



Hmmm... das
musst du noch
etwas üben!

